

DIDAKTICKÝ TEST

Jméno a příjmení

Počet úloh: 16

Maximální bodové hodnocení: 50 bodů

Povolené pomůcky: pouze psací a rýsovací potřeby

1 Základní informace k zadání zkoušky

- **Časový limit** pro řešení didaktického testu **je 70 minut**. (Žákům se speciálními vzdělávacími potřebami může být časový limit navýšen.)
- U každé úlohy je uveden maximální počet bodů.
- Za neuvedené řešení či za nesprávné řešení úlohy **se neudělují záporné body**.
- **Odpovědi píšete do záznamového archu.**
- Poznámky si můžete dělat do testového sešitu, nebudou však předmětem hodnocení.
- Didaktický test obsahuje **otevřené** a **uzavřené úlohy**. Uzavřené úlohy obsahují nabídku odpovědí. U každé takové úlohy nebo podúlohy je **právě jedna odpověď správná**.

2 Pravidla správného zápisu do záznamového archu

- Řešení úloh zapisujete do záznamového archu **modře nebo černě** píšící propisovací tužkou, která píše **dostatečně silně a nepřerušovaně**.
- Nejednoznačný nebo nečitelný zápis odpovědi bude považován za chybné řešení.
- V konstrukčních úlohách rýsujete tužkou a následně vše obtáhněte propisovací tužkou.

2.1 Pokyny k otevřeným úlohám

- Řešení úloh **píšte čitelně** do vyznačených bílých polí záznamového archu.

1

- Pokud budete chtít provést opravu, původní zápis přeškrtněte a nový uveďte do stejného pole.
- Je-li požadován celý postup řešení, uveďte jej do záznamového archu. Pokud uvedete pouze výsledek, nebudou vám přiděleny žádné body.
- Zápisy uvedené mimo vyznačená bílá pole záznamového archu nebudou hodnoceny.

2.2 Pokyny k uzavřeným úlohám

- Odpověď, kterou považujete za správnou, zřetelně zakřížkujte v příslušném bílém poli záznamového archu, a to přesně z rohu do rohu dle obrázku.

A B C D E

14 ☐ ☐ ☒ ☐ ☐

- Pokud budete chtít následně zvolit jinou odpověď, zabarvěte pečlivě původně zakřížkované pole a zvolenou odpověď vyznačte křížkem do nového pole.

A B C D E

14 ☒ ☐ ☒ ☐ ☐

- Jakýkoliv jiný způsob záznamu odpovědi (např. dva křížky u jedné odpovědi) bude považován za nesprávnou odpověď.

V záznamovém archu uvádějte v úlohách **1, 2, 6, 7, 8** a **16** pouze **výsledky**.

1 bod

1 Vypočtete, kolikrát větší jsou 4 setiny než 8 tisícín.

max. 2 body

2 Vypočtete:

2.1

$$\sqrt{4 \cdot 0,25} =$$

2.2

$$1 : 0,2^2 =$$

Doporučení: Úlohy **3, 4** a **5** řešte přímo **v záznamovém archu**.

max. 4 body

3 Vypočtete a výsledek zapište zlomkem v základním tvaru.

3.1

$$0,2 : \frac{27}{25} - \frac{2}{3} =$$

3.2

$$\frac{\frac{1}{5} - \frac{3}{10} + \frac{1}{4} \cdot 2}{4} =$$

V záznamovém archu uveďte v obou částech úlohy celý **postup řešení**.

max. 4 body

4 Zjednodušte:

Výsledný výraz nesmí obsahovat závorky.

4.1

$$(a + a) \cdot (1 - a) - a \cdot a =$$

4.2

$$\frac{n-1}{2} - \frac{2n-3}{4} =$$

V záznamovém archu uveďte v obou částech úlohy celý **postup řešení**.

max. 4 body

5 Řešte rovnici:

5.1

$$-\frac{2}{3} \cdot \frac{x}{2} = \frac{5}{12}$$

5.2

$$\frac{x-2}{2} - x = 2 - \frac{2x}{3}$$

V záznamovém archu uveďte v obou částech úlohy celý **postup řešení** (zkoušku nezapisujte).

VÝCHOZÍ TEXT A TABULKA K ÚLOZE 6

Výpočet ceny, kterou domácnosti zaplatí za vodu, se ve městech A a B liší.

Města	Platba (1x ročně) za užívání vodovodní přípojky	Platba za 1 m ³ spotřebované vody
A	0 Kč	72 Kč
B	990 Kč	61 Kč

Celkový počet m³ vody, kterou spotřebuje domácnost za rok, označte x .

(CZVV)

max. 4 body

6

- 6.1 V závislosti na veličině x vyjádřete cenu (v Kč), kterou zaplatí za vodu domácnost ve městě A za jeden rok.
- 6.2 V závislosti na veličině x vyjádřete cenu (v Kč), kterou zaplatí za vodu domácnost ve městě B za jeden rok.
- 6.3 Vypočtete, při jaké roční spotřebě vody (v m³) by zaplatila za vodu domácnost v městech A a B stejně.

max. 3 body

7 **Doplňte do rámečku čísla tak, aby platila rovnost:**

7.1 $0,75 \text{ m}^2 = 25 \text{ cm}^2 + \boxed{} \text{ cm}^2$

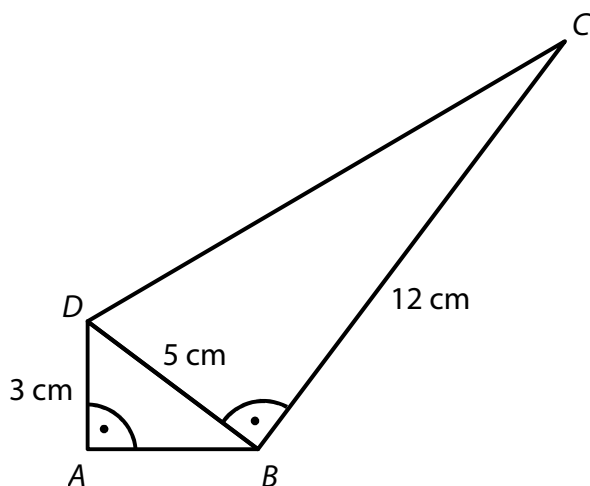
7.2 $0,2 \text{ dm}^3 + \boxed{} \text{ cm}^3 = 1 \text{ litr}$

7.3 $\boxed{} \cdot 20 \text{ minut} = 8 \cdot 0,75 \text{ hodiny}$

V záznamovém archu uveďte čísla doplněná do rámečků.

VÝCHOZÍ TEXT A OBRÁZEK K ÚLOZE 8

Čtýřúhelník $ABCD$ je složen ze dvou pravoúhlých trojúhelníků ABD a BCD .
Pro délky stran platí: $|AD| = 3 \text{ cm}$, $|BC| = 12 \text{ cm}$, $|BD| = 5 \text{ cm}$.



(CZVV)

max. 3 body

8

8.1 Vypočtete v cm délku strany AB .

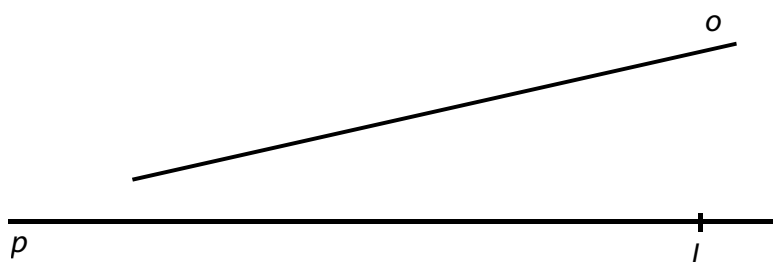
8.2 Vypočtete v cm délku strany CD .

8.3 Vypočtete v cm^2 obsah čtýřúhelníku $ABCD$.

Doporučení: Úlohy 9 a 10 rýsujte přímo do záznamového archu.

VÝCHOZÍ TEXT A OBRÁZEK K ÚLOZE 9

V rovině leží různoběžky o, p a bod L na přímce p .



(CZVV)

max. 3 body

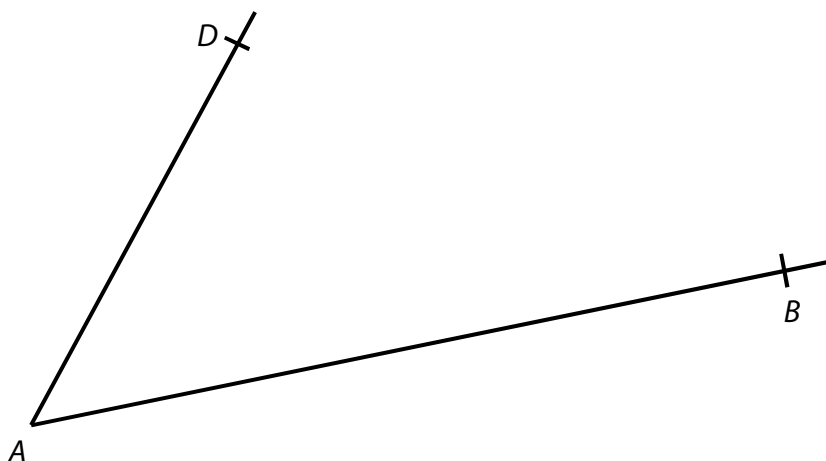
- 9** Bod L je vrchol rovnoramenného trojúhelníku KLM , přímka o je osou souměrnosti tohoto trojúhelníku a strana KL leží na přímce p .

Sestrojte chybějící vrcholy K, M trojúhelníku KLM a trojúhelník narýsujte.

V záznamovém archu obtáhněte vše **propisovací tužkou** (čáry i písmena).

VÝCHOZÍ TEXT A OBRÁZEK K ÚLOZE 10

V rovině leží body A, B a D .



(CZVV)

max. 2 body

- 10** Body A, B a D jsou vrcholy pravoúhlého lichoběžníku $ABCD$.

Sestrojte chybějící vrchol C lichoběžníku $ABCD$ a lichoběžník narýsujte.

V záznamovém archu obtáhněte vše **propisovací tužkou** (čáry i písmena).

VÝCHOZÍ TEXT K ÚLOZE 11

Maminka, tatínek, Ema a Ota váží dohromady 210 kg. Maminka s tatínkem dohromady váží dvakrát více než Ema s Otou dohromady. Ota váží 45 kg a maminka váží o pětinu více než Ota.

(CZVV)

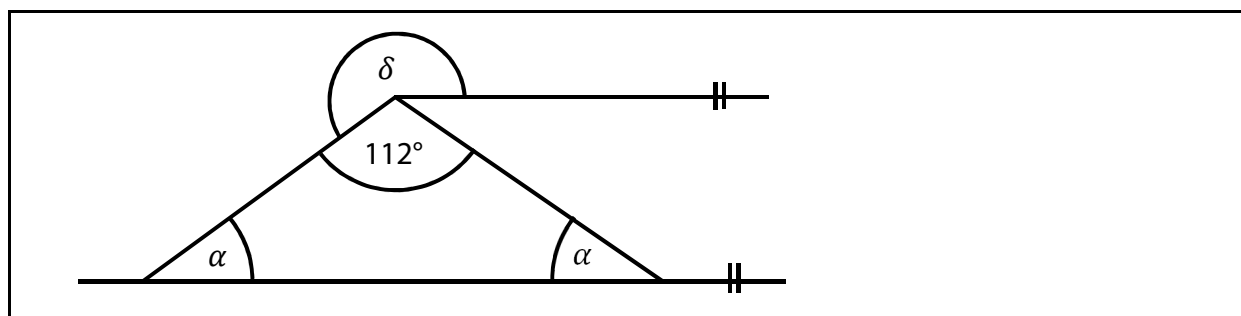
max. 4 body

11 Rozhodněte o každém z následujících tvrzení (11.1–11.3), zda je pravdivé (A), či nikoli (N).

- 11.1 Ema s Otou váží dohromady 70 kg.
11.2 Maminka váží o 20 kg více než Ema.
11.3 Tatínek váží 86 kg.

A	N
<input type="checkbox"/>	<input type="checkbox"/>
<input type="checkbox"/>	<input type="checkbox"/>
<input type="checkbox"/>	<input type="checkbox"/>

VÝCHOZÍ OBRÁZEK K ÚLOZE 12



(CZVV)

2 body

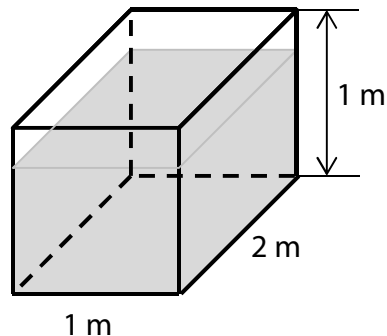
12 Jaká je velikost úhlu δ ?

Úhly neměřte, ale vypočtete.

- A) 192°
B) 214°
C) 236°
D) 248°
E) jiná velikost

VÝCHOZÍ TEXT A OBRÁZEK K ÚLOZE 13

Nádrž s vodou má tvar kvádru. Rozměry nádrže jsou uvedeny v obrázku. Zahradkář naplnil vodou z nádrže 15 prázdných dvanáctilitrových konví, a hladina vody v nádrži tak klesla.



(CZVV)

2 body

13 O kolik cm klesla hladina vody v nádrži?

- A) o méně než 9 cm
- B) o 9 cm
- C) o 10 cm
- D) o 11 cm
- E) o více než 11 cm

VÝCHOZÍ TEXT K ÚLOZE 14

V lahvi je 1,5 litru minerálky.

Všechnu minerálku z lahve přelijeme do prázdných skleniček o objemu $\frac{1}{3}$ litru.

Kromě poslední skleničky budou všechny ostatní skleničky naplněné po okraj.

(CZVV)

2 body

14 Jakou část objemu poslední skleničky vyplní zbytek minerálky?

- A) $\frac{1}{2}$
- B) $\frac{1}{3}$
- C) $\frac{1}{5}$
- D) $\frac{2}{3}$
- E) jinou část

max. 6 bodů

15 Přiřadte ke každé úloze (15.1–15.3) odpovídající výsledek (A–F).

15.1 Celkem 70 % z 520 důchodců používá kartu do bankomatu.

Kolik důchodců nepoužívá kartu do bankomatu?

15.2 Do oddílu přibyli 3 noví členové a počet členů se tak zvýšil o 2 %.

Kolik členů má nyní oddíl?

15.3 Ve sportovním gymnáziu hraje 20 % chlapců hokej a zbývajících 192 chlapců florbal. Chlapci tvoří 60 % všech žáků tohoto gymnázia.

Kolik dívek navštěvuje sportovní gymnázium?

A) méně než 151

B) 151

C) 153


D) 156

E) 160

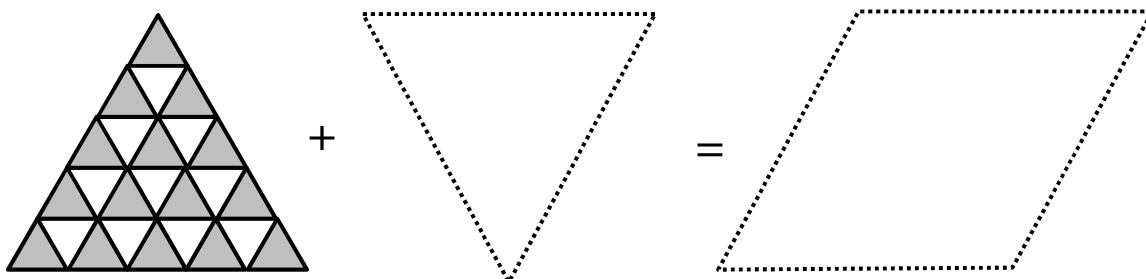
F) více než 160

VÝCHOZÍ TEXT A OBRÁZEK K ÚLOZE 16

V rovnostranném trojúhelníku se v jednotlivých řadách pravidelně střídají tmavé a bílé shodné trojúhelníčky. Ze dvou shodných trojúhelníků je vytvořen kosočtverec.



Obdobným způsobem lze z větších trojúhelníků vytvořit kosočtverec s větším počtem řad.



(CZVV)

max. 4 body

16

- 16.1 Kosočtverec má v každé řadě 4 bílé trojúhelníčky.
Určete **počet tmavých** trojúhelníků **v kosočtverci**.
- 16.2 Kosočtverec má v každé řadě 6 tmavých trojúhelníků.
Určete **počet všech** trojúhelníků (bílých i tmavých) **v kosočtverci**.
- 16.3 Kosočtverec má v každé řadě 21 tmavých trojúhelníků.
Určete **počet všech** trojúhelníků (bílých i tmavých) **v kosočtverci**.